

І этап конкурса учителей истории «Моя малая родина в истории страны»

Викторина, посвященная 85-летию Иркутской области

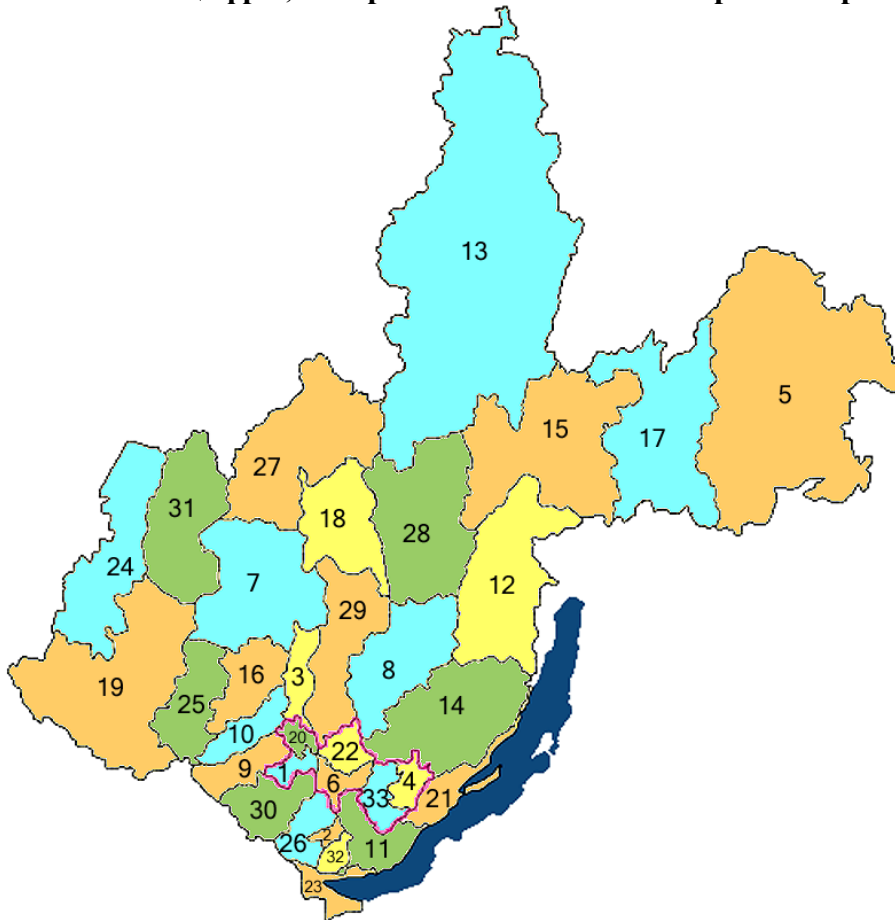
1. Назовите дату образования Иркутской области

- 1) 15 февраля 1937 года
- 2) 15 января 1937 года
- 3) 26 августа 1937 года
- 4) 26 сентября 1937 года

2. Назовите районы, созданные после 1990 г.

- 1) Тайшетский и Слюдянский;
- 2) Шелеховский и Ангарский;
- 3) Иркутский и Братский;
- 4) Ангарский и Нижнеудинский.

3. Укажите цифры, которыми обозначены на карте номера этих районов:



4. К «новым городам» Иркутской области относятся:

- 1) Ангарск
- 2) Братск
- 3) Тайшет
- 4) Усть-Илимск
- 5) Черемхово

5. Крупнейшим производителем электроэнергии в Иркутской области стала:

- 1) Иркутская ГЭС
- 2) Братская ГЭС
- 3) Усть-Илимская ГЭС
- 4) Мамаканская ГЭС.

6. В 1938 г. в Иркутской области было развернуто соревнование среди:

- 1) политработников МТС;
- 2) сельских культмассовых работников;
- 3) колхозного актива;
- 4) тракторных молодёжных бригад

7. В каком году в Иркутске открылся Восточно-Сибирский филиал АН СССР?

- 1) в 1946 г.
- 2) в 1947 г.
- 3) в 1948 г.
- 4) в 1949 г.

8. Когда в Иркутске впервые провели «Дни русской духовности «Сияние России»?

- 1) в 1994 г.
- 2) в 1995 г.
- 3) в 1995 г.
- 4) в 1996 г.

9. Какие танковые колонны были построены на средства, собранные трудящимися Иркутской области в годы Великой Отечественной войны?

- 1) «Иркутский колхозник»;
- 2) «Черемховский шахтер»;
- 3) «Иркутский железнодорожник»;
- 4) «Иркутский коммунист»;
- 5) «Иркутский комсомолец».

10. Определите о ком идет речь:

Эта женщина стала голосом советского кино, которое до сих пор вспоминают с теплотой. Ее песни «Где-то на белом свете», «Помоги мне», «Лесной олень» - знает почти все население нашей необъятной страны. Известная певица выросла в Иркутске на улице Марата, училась в школе № 17, окончила иняз. Хотела поступить в «Щепку», но не получилось. Но, несмотря ни на что, желание работать на сцене воплотилось. Она вышла на эстраду сначала в составе одного из ансамблей, потом с оркестром Олега Лундстрема, затем вместе с Леонидом Утесовым.

- 1) Нина Бродская
- 2) Аида Ведищева
- 3) Мария Пахоменко
- 4) Ольга Воронец

11. Определите о ком идет речь:

Родилась в Иркутске. Окончила Воронежское хореографическое училище по специальности «артистка балета и ансамбля народного танца» и Театральное училище им. Щукина по специальности «актриса театра и кино». С ноября 1983 года – ведущая актриса Московского академического драматического театра им. Маяковского. Стала известной после роли Оленьки Скворцовой в фильме режиссёра Эмиля Лотяну «Мой ласковый и нежный зверь...».

- 1) Галина Беляева
- 2) Ирина Купченко
- 3) Ирина Муравьева
- 4) Елена Сафонова

12. Каким событиям в истории посвящено произведение В.Г. Распутина «Прощание с Матёрой»:

- 1) присоединению Сибири к России;
- 2) коллективизации сельского хозяйства;
- 3) подъему целинных и залежных земель;
- 4) переселению населения в связи со строительством ангарских ГЭС.

13. В каком населённом пункте родился дважды Герой Советского Союза А.П.

Белобородов:

- 1) Хомутово;
- 2) Киренск;
- 3) Усть-Орда;
- 4) Акино-Баклаши.

14. Осенью 1941 г. по решению правительства в Иркутск для творческой работы были эвакуированы театры из Москвы, Белоруссии, Украины. Куда, в связи с этим, был перемещен творческий коллектив Иркутского драматического театра?

- 1) Усолье-Сибирское
- 2) Нижнеудинск
- 3) Черемхово

15. Когда в Иркутской области началось телевизионное вещание?

- 1) в 1961 г.
- 2) в 1957 г.
- 3) в 1956 г.

16. Расставьте события в хронологическом порядке (от раннего к позднему, ответ запишите в виде последовательности цифр).

- 1) Производство первой продукции Ангарского комбината искусственного жидкого топлива (АНХК)
- 2) Начало подготовки воздушной трассы для перегонки самолетов из США в СССР
- 3) Начало движения электропоездов на первом электрифицированном участке ВСЖД Иркутск-Слюдянка
- 4) Начало строительства Иркутской ГЭС
- 5) Запуск Иркутской детской железной дороги

17. Расставьте следующие города Иркутской области в правильной последовательности (от большего к меньшему) по размерам площади городской территории:

- 1) Братск;
- 2) Иркутск;
- 3) Усть-Илимск;
- 4) Ангарск;
- 5) Усолье-Сибирское.

18. Расставьте события в хронологическом порядке (от раннего к позднему, ответ запишите в виде последовательности цифр):

- 1) Сибирский край разделён на Западно-Сибирский и Восточно-Сибирский края.
- 2) Упразднены губернии, уезды, волости. Образован Сибирский край.
- 3) Образована Бурят-Монгольская АССР, в состав которой автономная область, в состав которой вошёл Бурят-Монгольский автономный округ.
- 4) Восточно-Сибирский край поделён на области и края.

19. Установите порядок пребывания на должности губернатора следующих представителей власти:

- 1) Ю.Ножиков
- 2) И.Есиповский
- 3) С.Левченко
- 4) А. Тишанин
- 5) И.Кобзев
- 6) С. Ерощенко
- 7) Д. Мезенцев
- 8) Б. Говорин

20. Соотнесите исправительно-трудовые лагеря, существовавшие на территории Иркутской области, с годами их упразднения:

Название лагеря	Год упразднения
1)Бодайбинский ИТЛ	А) 1953 г.
2)Китойский ИТЛ	Б) 1954 г.
3)Озерный ИТЛ	В) 1958 г.
4)Усольский ИТЛ	Г) 1961 г.
	Д) 1963 г.

21. Перед вами памятники и памятные места, расположенные на территории Иркутской области, а также их описания. Соотнесите описание и памятник, к которому оно относится, а также укажите населенный пункт, где расположен памятник. Ответ запишите в таблицу.



А)



Б)



В)



Г)



Д)



Е)

Текстовые фрагменты:

- 1) Этот памятник был выполнен по проекту Евгения Ставского и художника Льва Серикова открыт 3 декабря 1995 г. на площади возле дворца культуры «Металлург».
- 2) Он считается одним из самых необычных памятников России. Идея его создания принадлежала местным дорожным службам, а сам он был установлен в 1978 г.
- 3) Этот памятник известен тем, что стал первым в Иркутской области памятником, воздвигнутым в честь этого писателя.
- 4) Этот памятник возник относительно недавно; посвящен первому начальнику одной из ГЭС, расположенных на территории Иркутской области.
- 5) Появление этого памятника связано с одной из самых старых железных дорог в Иркутской области.
- 6) Этот памятник расположен на территории одного из заводов Иркутской области и посвящен жертвам политических репрессий.

фотографии	текстовые фрагменты	Место расположения
А		
Б		
В		
Г		
Д		
Е		

22. Перед вами фотопортреты иркутян, фрагменты биографии, связанные с их жизнью, а также перечень дат. Определите, кто эти известные иркутяне, подпишите фамилию, имя, отчество, установите соответствие всех указанных элементов.

Фотопортреты:



А)



Б)



B)



Г)



Д)



Е)

Фрагменты биографии:







- 1) Окончил Ленинградский техникум железнодорожного транспорта по специальности техник-механик вагонного хозяйства. Мастер, начальник депо, начальник вагонного участка ВСЖД в Иркутске и Нижнеудинске.
- 2) Окончил Высшие инженерные курсы при Томском политехническом институте. Был на партийной работе в Кемеровской области. Председатель Кемеровского областного совета профессиональных союзов, секретарь Кемеровского обкома КПСС, второй секретарь Кемеровского обкома КПСС.
- 3) Образование имел начальное, был рабочим. Был секретарем Ивановского обкома ВКП(б), позднее заведующим орготделом ЦК ВКП(б).
- 4) В учился в историко-партийном Институте красной профессуры. Был первым секретарем Востсибобкома ВКП(б). Был организатором на территории Иркутской области массовых репрессий. Позже его именем был назван Дворец пионеров.
- 5) Родился в семье рабочего-железнодорожника. Окончил Куйбышевский индустриальный институт. После окончания института работал механиком, начальником цеха, главным механиком, заместителем директора завода в Куйбышевской области.
- 6) Служил в РККА, участвовал в Гражданской войне. Был на партийной работе в Иваново-Вознесенской губернии, окончил Ленинградский институт инженеров путей сообщения.

Перечень дат

- 1) 1937 – 1938 гг.
- 2) 1939 – 1944 гг.
- 3) 1949 – 1955 гг.
- 4) 1955 – 1957 гг.
- 5) 1968 – 1983 гг.
- 6) 1983 – 1988 гг.

Фотопортреты	Текстовые фрагменты	Даты	Фамилия, имя, отчество

23. Перед вами фотографии городов Иркутской области. Установите соответствие фотографии, факта из истории города. Укажите, какой город представлен на фото

 <p>А)</p>	 <p>Б)</p>
 <p>В)</p>	 <p>Г)</p>
 <p>Д)</p>	 <p>Е)</p>

Факты:

1. В марте 1938 г. посёлок получил статус города. В то время здесь работали два крупных лесопильных предприятия, шпалопропиточный завод, паровозное депо и вагоноремонтный пункт, кирпичный завод, машинно-тракторная мастерская, паровая мельница и две хлебопекарни.
2. В 1932 г. начинает работать мастерская по обработке слюды. В 1937 г. она преобразовывается в слюдяную фабрику – первое крупное промышленное предприятие города.

3. Появление города на карте Иркутской области связано со строительством в Приангарье комбината № 16 по выработке моторного топлива из черемховских углей.






4. В 2007 г. занял первое место в конкурсе на лучшее муниципальное образование Иркутской области.

5. В 1954 г. правительство СССР приняло решение наладить производство отечественного корда, аналогичного производимому в США.

6. 4-11 августа 1947 г. проходила Всесоюзная конференция по изучению производительных сил области, сыгравшая большую роль в развитии края. В ней приняли участие видные учёные страны, академики И.П. Бардин, В.Н. Образцов, В.С. Немчинов, А.В. Винтер, Л.Д. Шевяков, а также представители министерств, вузов, проектных институтов страны

Фото	Текстовые фрагменты	Город

24. Установите соответствие произведения живописи и его автора.

 <p>1.</p>	 <p>2.</p>
 <p>3.</p>	 <p>4.</p>
 <p>5.</p>	

- А. Богданов Глеб Васильевич
 Б. Мироненко Виктор Михайлович
 В. Рубцов Андрей Филиппович
 Г. Осипов Владимир Игоревич
 Д. Лебединский Борис Иванович

1	2	3	4	5

25. Кто автор данных строк:

«Я родился летом, но в Зиме.

Славу добыл я не задарма,

знаменитой сделав на земле маленькую станцию Зима».

26. Что такое «красный эшелон» и как он связан с Иркутской областью?

27. В анналы российской литературы для детей вошли произведения, созданные иркутскими писателями. Соотнесите левый столбец (имена детских писателей) и правый столбец (художественные произведения).

Писатель	Произведение
1) Г. Михасенко	А. «Дедушка Тирдачка», «Ёхин фарт»
2) Ю. Черных	Б. «Артамошка Лузин», «Албазинский острог»
3) Г. Замирацкий	В. «Пятая четверть», «Милый Эп»
4) Г. Кунгуров	Г. «Кто пасется на лугу?», «Пугливые тюлени»

28. По некоторым произведениям, представленным в предыдущем задании, были сняты художественные фильмы? Напишите их названия?

29. Для съемок какого из фильмов специально, по просьбе «Ленфильма» был осуществлен спуск воды на плотине Братской ГЭС?

30. Этот писатель много путешествовал, участвовал в создании алфавита для бесписьменных северных народов. Но главным его призванием стала педагогика, до конца жизни он преподавал в Иркутском педагогическом институте.

31. К стихам этого поэта А. Пахмутова написала музыку. В 1972 г. одна из песен стала лауреатом конкурса детской песни в Софии. По одному из его произведений был поставлен мультфильм.

32. Этот писатель был еще талантливым художником. Он всю свою жизнь посвятил тому, что бы научить детей рисовать и чертить. Он работал учителем в общеобразовательной школе и руководил художественной студией в Доме пионеров.

33. Определите, по какому принципу образованы ряды:

- 1) М.А. Гудошников, В.Т. Агалаков, Ф.А. Кудрявцев, Г.А. Терюшков, Н.И. Щербаков
- 2) Н.И. Ярополов, Р.С. Зурабов, С.Г. Файзулин, А.А. Токарев, О.Я. Потапова
- 3) Приезд в Иркутск делегации японской молодежи, открытие нового здания областной юношеской библиотеки, первая массовая демонстрация протеста в СССР (по поводу БЦБК и загрязнения реки Иркут), премьера балета Адольфа Адана «Жизель» состоялась на сцене народного театра «Солнечные блики» в Усть-Илимске, начало свою работу одиннадцатая конференция «Молодость. Творчество. Современность».
- 4) Седых К., Маляревский П., Шугаев В., Михасенко Г., Машкин Г.
- 5) Вычугжанин А.И., Алексеев А.И., Рогаль В.С., Ольховик В.Ф., Гимов Л.Б.

34. Укажите название последнего исправительно-трудового лагеря, располагавшегося на территории Иркутской области, и в каком году он был расформирован?

35. Укажите название авиационной трассы, изображенной на фотографии, которая в годы Второй мировой войны проходила по северу Иркутской области.



36. Назовите коренной малочисленный народ Иркутской области, самоназвание которого переводится как «черные гуси».


37. В 1963 г. известный лидер одного из латиноамериканских государств посетил гг. Иркутск и Братск. Назовите имя этого человека.

38. В 1783 г. у Алеутских островов потерпело крушение японское судно «Синсемару». Уцелевших японцев спасли русские моряки. С 1789 по 1792 гг. спасенные японцы прожили в г. Иркутске, а впоследствии вернулись на родину. После распада Советского Союза по инициативе мэра японского города Судзука в Иркутске был установлен памятник, посвященный этим событиям. В каком году он был установлен и где находится?

39. В 2022 г. будет отмечаться 28-летие должности губернатора Иркутской области. Какая дата считается началом губернаторского срока в нашей области?

40. Перед вами иллюстративные ряды. Определите, что зашифровано в каждом ряду.

А			
Б			



Желаем удачи!

Не забудьте внести ответы в специальный бланк!!!