

## Информационное письмо

**Уважаемые учителя, школьники, студенты!**

Кафедра истории и методики Отделения гуманитарно-эстетического образования Педагогического института Иркутского государственного университета приглашает принять участие в региональной викторине, посвященной 100-летию образования СССР.

**Цель:** популяризация знаний об истории XX в., ключевых событиях становления Советского государства.

**Участники викторины.** Участниками викторины могут быть обучающиеся 9-11 классов общеобразовательных организаций, системы СПО, а также студенты вузов.

**Порядок организации и проведения викторины.** Викторина проводится заочно в срок с 05 по 14 декабря 2022 г. (включительно). Оценка работ участников викторины осуществляется по балльной шкале (**максимальная оценка – 100 баллов**). Победители и призеры определяются, исходя из наибольшего количества набранных баллов, и награждаются дипломами.

Выполненные задания викторины (**на бланке ответов**) отправляются по электронной почте [istoriki\\_pi\\_igu@mail.ru](mailto:istoriki_pi_igu@mail.ru). **Файл с ответами обозначается фамилией участника.**

## Региональная заочная викторина, посвященная 100-летию образования СССР

1. *Эта будущая союзная республика первоначально находилась в составе Оренбургской области*
  - А) Казахская
  - Б) Узбекская
  - В) Туркменская
  - Г) Таджикская
2. *Кто был первым секретарем Закавказского краевого комитета РКП(б):*
  - А) Мамя Орахелашвили
  - Б) А.И. Криницкий
  - В) В.В. Ломинадзе
  - Г) Серго Орджоникидзе
3. *Укажите высшее государственное учреждение СССР в состав полномочий которого входили рассмотрение и практическое проведение через соответствующие органы в жизнь хозяйственного и финансового планов СССР, рассмотрение вопросов обороны страны и принятие мероприятий, касающихся улучшения военного дела, утверждение уставов трестов и акционерных обществ, руководство экономическими совещаниями союзных республик*
  - А) СНК
  - Б) ЦИК СССР
  - В) Совет труда и обороны
  - Г) ВСНХ
4. *Проект создания конфедеративного советского союзного государства предложил:*
  - А) В.И. Ленин
  - Б) И.В. Сталин
  - В) Х.Г. Раковский
  - Г) А.И. Рыков
5. *Тувинская Народная Республика вошла в состав СССР в*
  - А) 1911 г.
  - Б) 1924 г.
  - В) 1922 г.
  - Г) 1946 г.
6. *РСФСР юридически была оформлена на*
  - А) V съезде РСДРП
  - Б) II Всероссийском съезде советов
  - В) Учредительном собрании
  - Г) III Всероссийском съезде советов
7. *Назовите причину, которая не лежала в основе объединительных тенденций советских социалистических республик в 1922 г.*
  - А) Необходимость обороны от внешнего мира
  - Б) Необходимость выстраивания единой экономической политики
  - В) Необходимость борьбы с армией А.В. Колчака
  - Г) Необходимость установления советской власти на всей территории бывшей Российской империи
8. *Бурят-Монгольская Автономная область была образована в Бурят-Монгольскую Автономную Советскую Социалистическую Республику в*
  - А) 1922 г.
  - Б) 1923 г.
  - В) 1929 г.

Г) 1936 г.

9. *Расположите в хронологической последовательности руководителей Украинской ССР.*

- А) Хрущев Н.С.
- Б) Молотов В.М.
- В) Косиор С.В.
- Г) Каганович Л.М.

10. *В какие годы были приняты Конституции СССР?*

- А) 1918 г.
- Б) 1922 г.
- В) 1924 г.
- Г) 1936 г.
- Д) 1946 г.
- Е) 1977 г.
- Ж) 1990 г.

11. *Одним из символов любого государства является гимн. Назовите авторов текста гимна СССР, действовавшего до 1977 г., и автора музыки.*

12. *Во Всесоюзный Центральный Исполнительный Комитет, избранный 30 декабря 1922 г., вошли представители четырех союзных республик, которые одновременно стали его председателями. Назовите эти республики и фамилии их представителей.*

13. *Внутри РСФСР проводились административно-территориальные преобразования. Назовите год, когда была образована первая в РСФСР автономная область и укажите два ее названия.*





14. *Расположите республики по мере их выхода из состава СССР*





- А) Армянская ССР
- Б) Белорусская ССР
- В) Молдавская ССР
- Г) Литовская ССР
- Д) Узбекская ССР
- Е) Туркменская ССР
- Ж) Российская ССР
- З) Казахская ССР

15. *Соотнесите органы власти, появившиеся по Конституции СССР 1924 г. и их принадлежность.*


Название органа власти	Принадлежность
1) Всесоюзный Съезд Советов	А) высший орган власти между съездами
2) Совет народных комиссаров	Б) верховный орган власти
3) Центральный исполнительный комитет	В) верховный исполнительный и распорядительный орган
4) Президиум ЦИК	Г) постоянно действующий орган

16. *Расположите руководителей СССР в хронологическом порядке, укажите их ФИО и даты правления.*

А)	Б)	В)	Г)
			

Д)	Е)	Ж)	З)
			

17. Укажите автора картины и ее название.



18. Административно-территориальное деление РСФСР несколько раз изменялось. Укажите, какие административно-территориальные единицы существовали в России с 1960-х гг. и их количество.

19. Заполните пробелы в тексте. Ответ оформите в виде перечня элементов под соответствующими номерами

Крупная реформа губернских органов власти в масштабах всей страны была проведена осенью \_\_\_\_\_ (1 - год). В период с 29 октября по 3 ноября \_\_\_\_\_ (1 - год) состоялась третья сессия ВЦИК \_\_\_\_\_ (2 – номер) созыва, на которой одним из обсуждаемых являлся вопрос о кардинальном реформировании аппарата губернских исполнительных комитетов. В последний день заседания, 3 ноября, большинством голосов был одобрен проект постановления \_\_\_\_\_ (3 – название). Исходя из содержания этого акта, губернские отделы управления подлежали упразднению. Все их функции, кроме административно-исполнительных, передавались в компетенцию президиумов губисполкомов. Административно-исполнительные же теперь сосредоточивались в губернских \_\_\_\_\_ (4 – название) отделах. Из компетенции продовольственных отделов изымались налоговые функции и передавались финансовым отделам. Губернские советы народного хозяйства и губернские коммунальные отделы теперь должны были объединиться в отдел \_\_\_\_\_ (5 – название). Лишь девять отделов – военный, \_\_\_\_\_ (6 – название), \_\_\_\_\_ (7 – название), \_\_\_\_\_ (8 – название), \_\_\_\_\_ (9 – название), народного образования, здравоохранения, \_\_\_\_\_ (10 – название), социального обеспечения – сохранялись в нетронутом виде.

20. В процессе создания СССР произошли изменения в центральных органах управления: появилось три группы наркоматов, в чем заключалась особенность каждой? Приведите не менее двух примеров наркоматов каждой группы (по состоянию на 1922-1923 гг.).

1. \_\_\_\_\_

\_\_\_\_\_





2. \_\_\_\_\_


\_\_\_\_\_

3. \_\_\_\_\_

\_\_\_\_\_

*21. Установите соответствие. Ответьте на поставленный вопрос.*

<p>I.</p> 	<p>II.</p> 
<p>III.</p> 	<p>IV.</p> 




- А Нусратулло Махсум Лутфуллаев.
- Б. Михаил Иванович Калинин
- В. Григорий Иванович Петровский
- Г. Файзулла Убайдуллаевич Ходжаев
- Д. Александр Григорьевич Червяков
- Е. Нариман Наджаф оглы Нариманов

	Римская цифра	Буква
Украинская ССР		
РСФСР		
ЗСФСР		
Узбекская ССР		
Таджикская ССР		
Белорусская ССР		


*Что в рамках заявленной темы викторины объединяет указанных политических деятелей?*

**22. Определите, какие республики зашифрованы в каждом ряду, и напишите дату вхождения республики в состав СССР**

1			
2			



23. Перед вами флаги республик, входивших в состав СССР. Укажите название республик и столицу.



24. Перед вами гербы республик, входивших в состав СССР. Назовите республику и год ее вхождения в СССР.






Рассмотрите карту и выполните задания.



25. В каком году было образовано государство, границы которого отмечены на карте.
26. Как назывался план образования данного государства. В чем его смысл?
27. Назовите республику, обозначенную на схеме цифрой 5.
28. Напишите название столицы, обозначенной на схеме цифрой 6.
29. Как называлась республика, в которую входили территории, обозначенные на схеме цифрами 7, 8, 9.
30. Перед вами скульптуры. Определите, какую республику олицетворяет каждая из скульптур. Укажите название памятника, куда входят скульптуры, год его создания, архитекторов и место расположения.




А)



Б)




В)



Г)



Д)



Е)