



**ФГБОУ ВО «Иркутский государственный университет»
Педагогический институт
Отделение гуманитарно-эстетического образования
Кафедра истории и методики**

**Положение о региональной заочной исторической викторине
«Великая война – Великая Победа»,
посвященной 80-летию Победы в Великой Отечественной войне**

Целью викторины является: формирование исторической памяти молодого поколения о Великой Отечественной войне, а также приобщение к истории своего края – Иркутской области.

Задачи викторины:

- привлечь внимание молодежи к изучению истории Великой Отечественной войны, ее исторического значения в судьбе региона и народов России;
- воспитывать у молодежи чувство патриотизма, гражданственности, уважения к воинскому долгу.

Сроки проведения викторины

Подготовка и предоставление работ участниками – 24 марта – 6 апреля 2025 г.
Работа жюри по проверке работ – 7 апреля – 14 апреля 2025 г.

Участники

В викторине могут участвовать школьники 9 - 11 классов общеобразовательных организаций, а также студенты средних профессиональных и высших учебных заведений. Принимаются только индивидуальные работы.

Для участия в викторине необходимо: в указанные сроки отправить ответы на задания викторины, внесенные на специальный бланк, по электронной почте istoriki_pi_igu@mail.ru.

Задания исторической викторины «Великая война – Великая Победа» будут выставлены на сайте <http://pi.isu.ru/ru/index.html> 24 марта 2025 г.

По итогам викторины присуждаются:

Три первых места для 9-классников, три первых места для 10-классников, три первых места для 11-классников, три первых места для учащихся средних профессиональных и высших учебных заведений. Участники викторины, набравшие более 50 % правильных ответов, получают сертификаты.

**Региональная заочная викторина «Великая война – Великая Победа»,
посвященная 80-летию Победы в Великой Отечественной войне**

Уважаемый участник викторины, тебе предстоит выполнить 30 заданий и внести ответы на специальный бланк. Задания охватывают широкий спектр тем, связанных с событиями военных лет, в том числе особое внимание уделено нашему региону и его вкладу в Победу. В конце документа ты можешь найти список полезных ресурсов, которые могут помочь в решении представленных заданий. Удачи!

1. Высший государственный орган власти в 1941-1945 гг.

- а) Народный комиссариат обороны
- б) Ставка Верховного Главнокомандования
- в) Государственный Комитет Обороны
- г) Совет Труда и Обороны

2. Военная операция под кодовым названием «Кутузов» осуществлялась в ходе

- а) освобождения Северного Кавказа
- б) Сталинградской битвы
- в) битвы за Днепр
- г) Курской битвы

3. В ходе, какой военной операции по уничтожению противника были использованы 140 прожекторов

- а) Будапештской
- б) Висло-Одерской
- в) Берлинской
- г) Венской

4. Определите хронологическую последовательность событий Второй Мировой войны:

- а) сталинградская битва
- б) разгром немецких войск под Москвой
- в) битва за Днепр
- г) Крымская конференция
- д) разгром японских войск в Манчжурии
- е) битва на Курской дуге
- ж) нападение Германии на СССР
- з) битва за Смоленск
- и) взятие Берлина
- к) нападение на американскую военную базу Перл-Харбор
- л) битва за Англию

5. Нашими земляками, дважды удостоенными звания Героя Советского Союза, были

- а) А.П. Белобородов
- б) С.Б. Погодаев
- в) Н.В. Челноков
- г) В.Х. Хантаев

6. Салют 27 января 1944 г. был дан в честь...

- а) полного снятия блокады Ленинграда
- б) победы над фашизмом
- в) успешной Красносельско-Ропшинской операции 1944 г.
- г) разрыва Аргентиной дипломатических отношений с Германией и Японией

7. Трудовые дела работников тыловых районов области после войны были отмечены:

- а) медалью «За боевые заслуги»;
- б) орденом «Знак Почёта»;
- в) медалью «За трудовые заслуги»;
- г) медалью «За доблестный труд в Великой Отечественной войне 1941-1945 гг.».

8. Высшим военным орденом, учрежденным в годы Великой Отечественной войны, был

- а) Орден Славы
- б) Орден «Победа»
- в) Орден Красной Звезды
- г) Орден Красного Знамени

9. Звание «Город трудовой доблести» было присвоено г. Иркутску в

- а) 1946 г.
- б) 1991 г.
- в) 2020 г.
- г) 2024 г.

10. Каким школам города Иркутска были присвоены имена героев Великой Отечественной войны?

- а) МБОУ г.Иркутска СОШ № 72
- б) МБОУ г. Иркутска СОШ № 43
- в) МБОУ г. Иркутска СОШ № 71
- г) МБОУ г. Иркутска СОШ № 21
- д) МБОУ г. Иркутска СОШ №2
- е) МБОУ г. Иркутска СОШ № 10

11. Перед вами иллюстрации двух орденов. Выберите о них верные суждения.







- а) Морские Ордена впервые появились в нашей стране в годы Великой Отечественной войны
- б) В проектировании одного из Орденов участвовал И.В. Сталин
- в) Ордена имеют разную степень
- г) Ордена не используются для награждения в современной России
- д) По своему статусу Орден приравнены к Ордену Суворова и Ордену Кутузова

12. Установите соответствие

КОНФЕРЕНЦИЯ СОЮЗНИЦ	СТРАН	ДОГОВОРЕННОСТИ
1. Потсдамская		А. Решён вопрос об открытии второго фронта в Европе не позднее 1 мая 1944 г.
2. Ялтинская		Б. Соглашение о поставке США и Великобританией оружия, транспорта и продовольствия для СССР
3. Тегеранская		В. Принято решение проводить в отношении Германии политику «4-х Д»: денацификацию, демократизацию, демилитаризацию, демонополизацию
		Г. Подтверждено согласие СССР вступить в войну с Японией через три месяца после капитуляции Германии и получение согласия союзников на присоединение к нему Курильских островов и Южного Сахалина

13. Перед вами фотографии военных лет. Определите, в каком году произошли события, изображенные на фото, и расположите их в хронологической последовательности.

 <p>А</p>	 <p>Б</p>
 <p>В</p>	 <p>Г</p>



Д



Е

14. Соотнесите список военных операций с их описаниями. Расставьте операции в хронологическом порядке. Ответ запишите в таблицу.

1. «Багратион»
2. Крымская
3. Петсамо-Киркенесская
4. Прибалтийская
5. Днепровско-Карпатская
6. Ленинградско-Новгородская
7. Выборгско-Петрозаводская
8. Львовско-Сандомирская
9. Яско-Кишневская
10. Восточно-Карпатская

А. Операция осуществлялась войсками Первого и Второго Украинских фронтов. Их части одновременно наносили сходящиеся удары по вражеской группировке. Первый украинский фронт действовал юго-восточнее Белой церкви, Второй Украинский фронт – севернее Кировоград. Окружение немецко-фашистских войск началось в конце января. Необычной была эта зима на Украине. От дождей почва превратилась в непролазную грязь.

Б. Гитлеровское командование начало отводить войска на запад, чтобы, прикрывшись рекой Прут, организовать новый рубеж обороны. А 23 и 24 августа фашисты уже форменным образом бежали. Неудержимое продвижение наших частей они попытались было задержать с помощью сильных отрядов мотопехоты с самоходно-артиллерийскими установками. Но было уже поздно. Войска 2-го и 3-го вышли западнее Кишинева в район Хуши и Леово и полностью окружили группировку неприятеля. Войска 5-й ударной армии освободили столицу Молдавии город Кишинев.

В. На созванном Военном совете мы констатировали, что операция подошла к концу. Задачи, которые были поставлены Карельскому фронту и Северному флоту, выполнены полностью: немецко-фашистские захватчики разгромлены, а их остатки выброшены с Советского Севера. Оказана помощь в освобождении Норвегии. ...я позвонил в Ставку и доложил о решении Военного совета завершить на этом операцию. «Хорошо, ответил мне подошедший к телефону И.В. Сталин, - мы обсудим ваше предложение. Вы разберитесь во всем основательно, подумайте о возможных деталях еще раз и вечером доложите окончательно».

Г. Вечером 11 апреля столица нашей Родины Москва салютовала доблестным воинам 4-го Украинского фронта, прорвавшим оборону противника на Перекопе и на Сиваше и овладевшим городом Джанкой и телефонных переговоров с К.Е. Ворошиловым мне стало известно, что войска Отдельной Приморской армии, начав с 22 часов боевые действия, заняли передовые траншеи противника. Главные ее силы, перейдя в наступление ночью, к

утру полностью освободили Керчь и стали выдвигаться к промежуточным рубежам обороны фашистов между Арбатским и Феодосийским заливами.

Д. В полосе прорыва развернуто 207 орудий и минометов на километр фронта. Артподготовка должна начаться одновременным залпом. В 200 метрах от наблюдательного пункта стоят дивизионы 152-миллиметровых орудий. До 7 утра еще пять минут. Видно, как заряжают орудия. Артиллеристы взялись за шнуры. Остается минута...Тридцать секунд... Десять... Раскат залпов возвестил о начале битвы за освобождение советской Белоруссии.

Е. 1-й и 4-й Украинские фронты вынужденно, раньше чем следовало, начали операцию. Неожиданность ее и срочные сроки подготовки обуславливались обращением от имени Чехословацкого правительства посла Чехословакии в Москве к Советскому правительству с просьбой оказать помощь Словацкому национальному восстанию. Цель операции сводилась к тому, чтобы ударом на Дуклу и далее на Прешлов выйти в Словакию и соединиться с повстанцами.

Ж. В первой декаде июля в Дубенских лесах началось оживление: со дня на день в танковой армии ждали приказа о наступлении. Были запрещены увольнения и отпуска, командиры проверяли готовность своих частей к боевым действиям. Приказ о наступлении был получен. Под ним стояла подпись нового командующего 1-м Украинским фронтом маршала И.С. Конева и начальника штаба генерала армии В.Д. Соколовского. Армиям стала задача: форсировать реку Западный Буг с прорывом Сокальского и Каменско-Струмиловского укрепленных районов, выход в район Равы-Русской, завершение и окружение Бродской группировки противника, а также принятия мер к недопущению отхода Львовской группировки противника в северо-западном направлении.

З. Радио передает текст приказа Военного совета Ленинградского фронта. Успеваю записать только самое главное: «...в итоге 12-дневных напряженных боев прорвали и преодолели... сильно укрепленную, глубоко эшелонированную долговременную оборону немцев, штурмом овладели (города)... успешно развивая наступление, освободили более семисот населенных пунктов и отбросили противника от Ленинграда по всему фронту на шестьдесят пять – сто километров. Наступление наших войск продолжается... Решена задача исторической важности: город Ленинград полностью освобожден от вражеской блокады и от варварских артиллерийских обстрелов противника... Сегодня ... город Ленина салютует доблестным войскам Ленинградского фронта двадцать. Четырьмя артиллерийскими залпами из трехсот двадцати четырех орудий...»

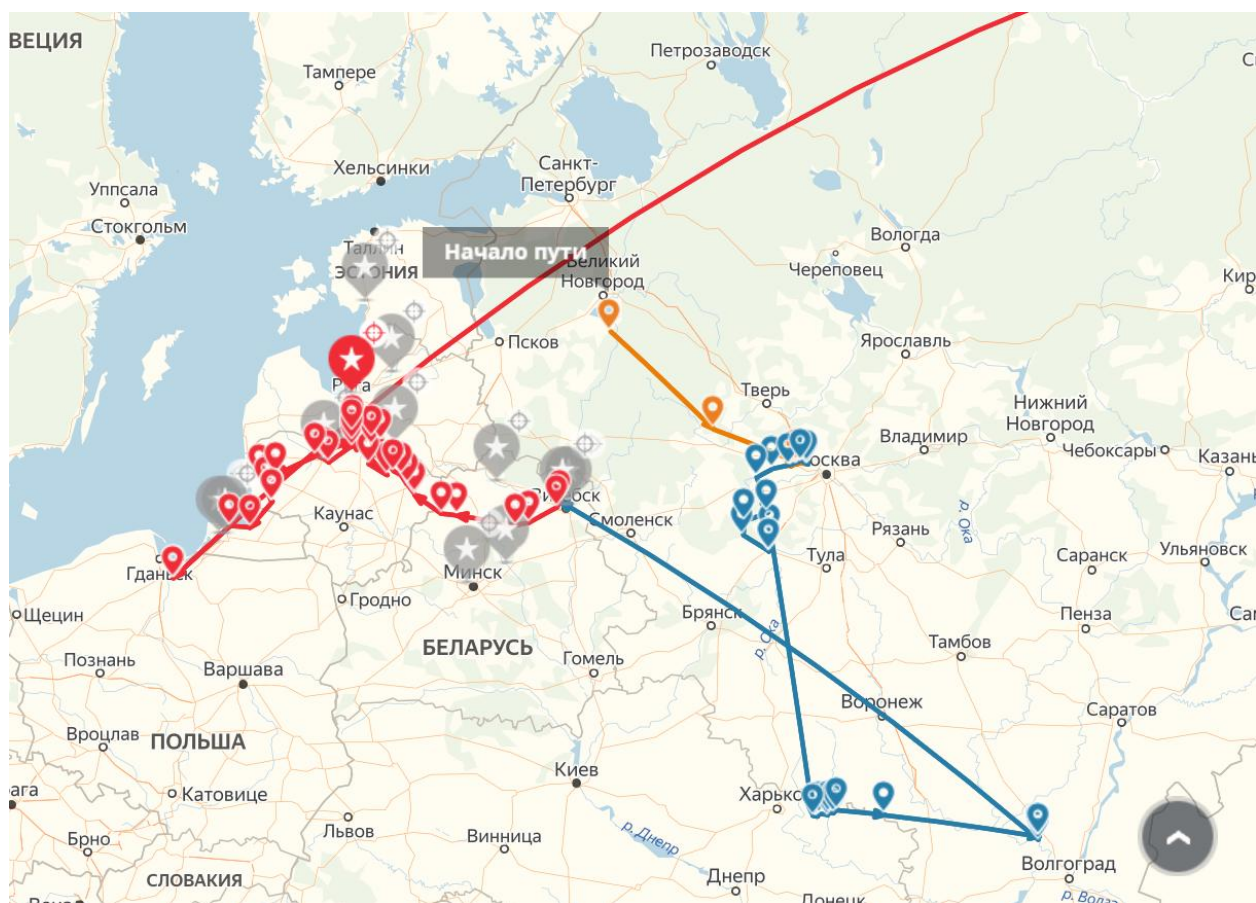
И. 5 октября началась Мемельская наступательная операция, которую Маршал Советского Союза И.Х. Баграмян в своих послевоенных воспоминаниях назвал «решающей во всей ... операции». Это объяснялось важной целью Мемельской операции – снова выйти на побережье Балтийского моря, теперь уже окончательно закрепиться здесь и отрезать пути отхода группы армий «Север» в Восточную Пруссию.

К. Все уже становилась ведущая к столице Карелии горловина. Железной артерией шла по ней дорога Петрозаводск – Суоярви, но наша авиация массированными налетами разрушила ее. С юга подходила 7-я армия. У финнов еще была надежда закрепиться на западном берегу Онеги, но Онежская военная флотилия высадила здесь десант. ...наша бригада овладела Петрозаводском. Все население высыпало на улицы. Несколько часов длилась восторженная демонстрация.

Под каким названием комплекс этих операций вошел в военную историю? _____

К какому году относятся все эти операции? _____

15. Перед вами карта, отражающая боевой путь одного из сибирских военачальников, назовите его фамилию, имя, отчество. Выберите три верных утверждения о нем.

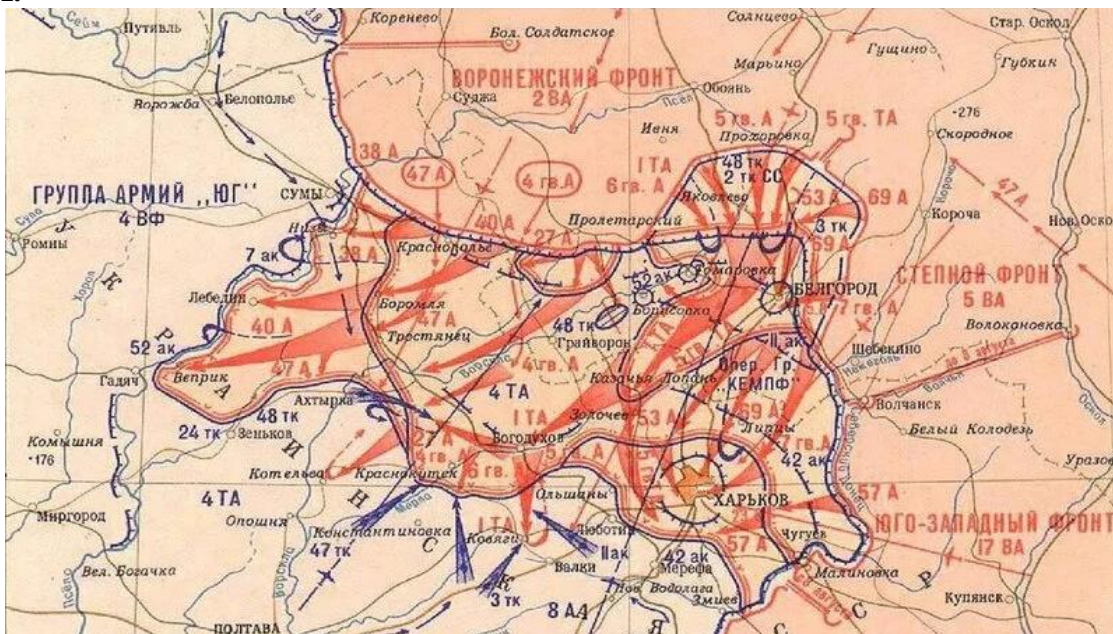


Отметьте три верных утверждения:

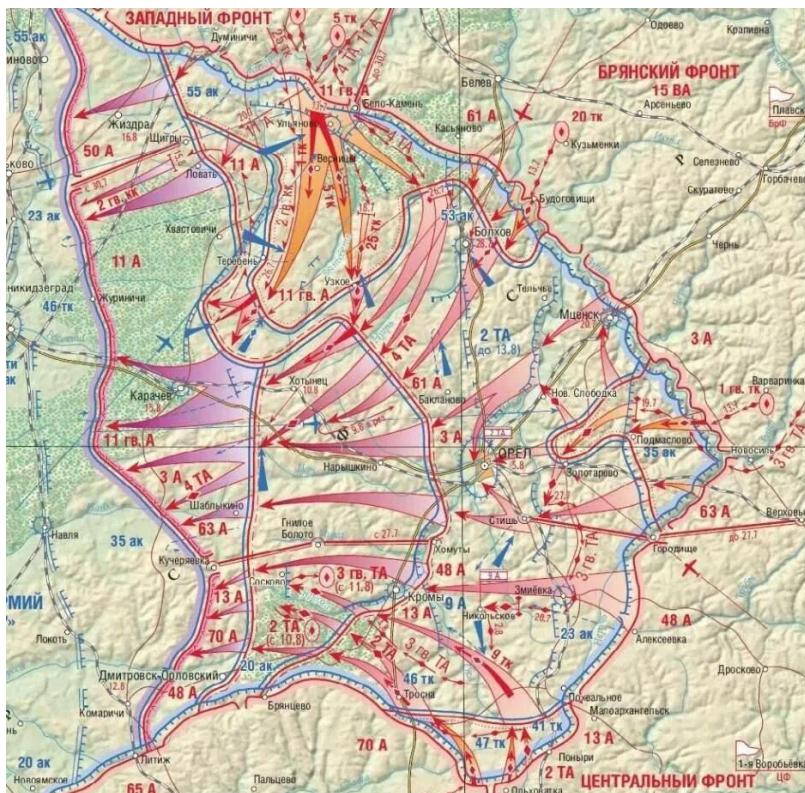
- 1) В начале Великой Отечественной войны командовал 78-й стрелковой дивизией. 27 июня 1941 г. был назначен начальником штаба 28-й армии, участвовал в Смоленском сражении.
- 2) За умелое руководство войсками в Кенигсбергской операции 19 апреля 1945 г. был награжден второй медалью «Золотая Звезда».
- 3) В августе 1942 г. был назначен командующим Юго-Восточным фронтом.
- 4) С 14 октября 1942 г. был командиром 5-го гвардейского стрелкового корпуса на Калининском фронте.
- 5) В июле 1941 г. войска Западного направления под его командованием остановили наступление группы армий "Центр".

16. Установите соответствие между картой боевых действий и полководцами, которые ими руководили. Заполните прилагаемую таблицу.

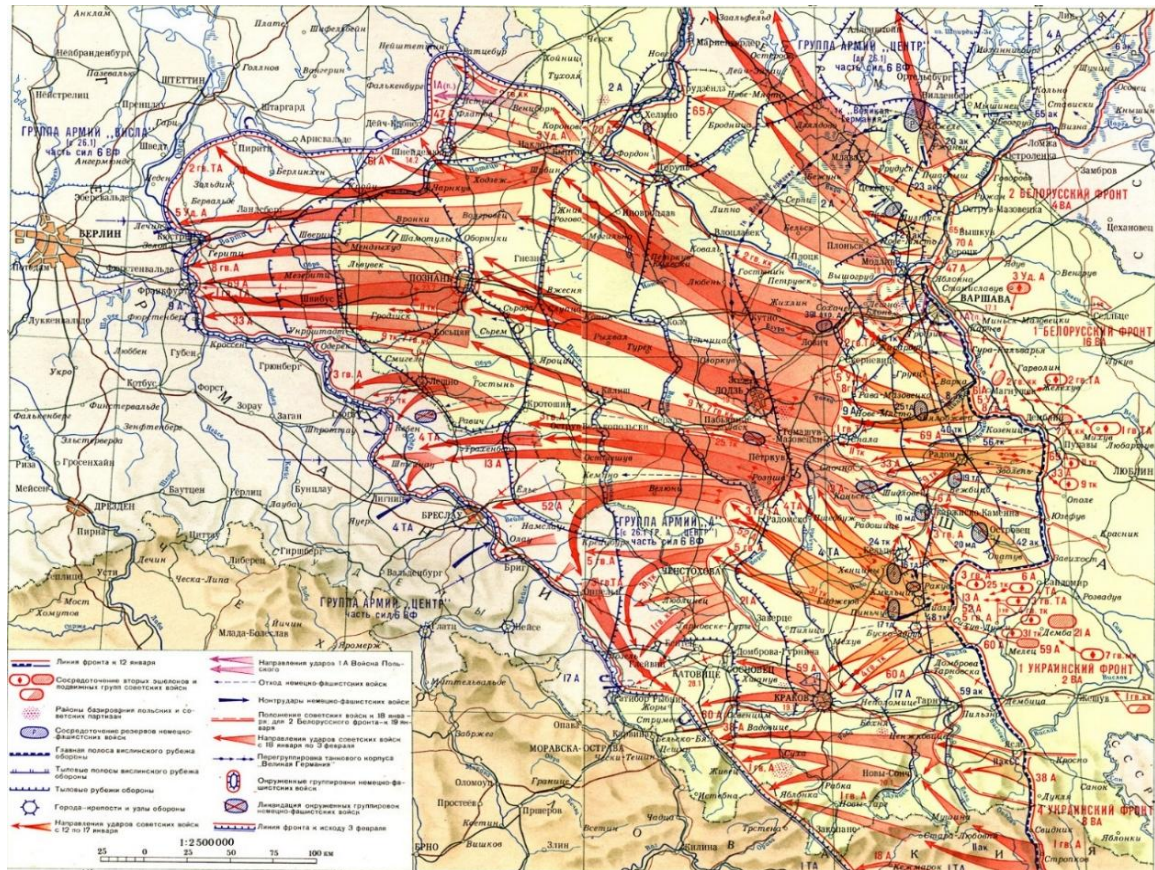
I.



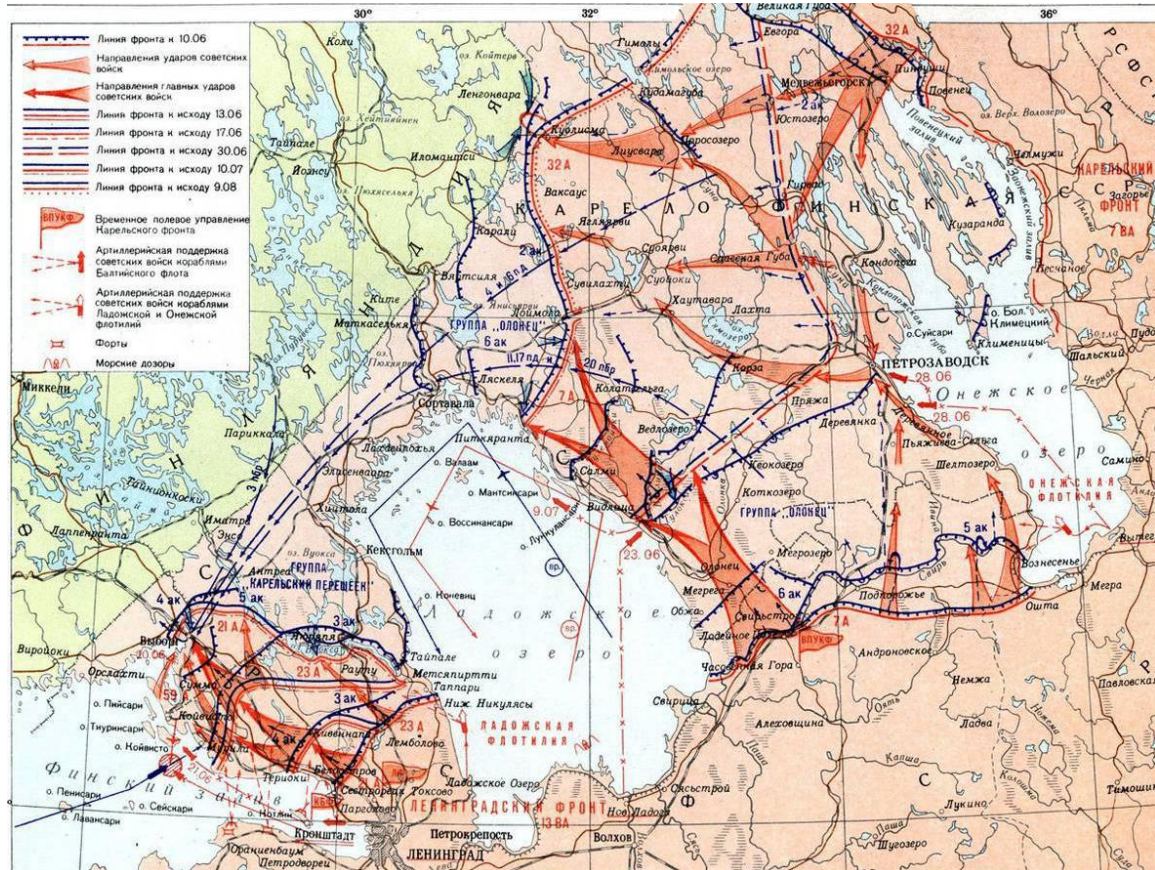
II.



III.



IV.





А.



Б.



В.



Г.



Д.



Е.



Ж.



З.

17. Перед вами тексты, рассказывающие о подвигах совсем юных героев Великой Отечественной войны. Напишите имя человека, о котором повествует каждый из текстов.

1. Этот герой, устроившись работать в немецкую офицерскую столовую посудомойкой, добавил яд в суп и отравил более 100 офицеров. После свершившейся диверсии немцы устроили масштабную проверку всех сотрудников столовой. заставили съесть этот же суп всех, кто работал на кухне. Диверсант чудом остался жив. В дальнейшем его направили в партизанский отряд. Судьба закончилась трагично: в 1944 г., попав в плен, пытался бежать, но не смог. Месяц партизан подвергался пыткам, но выстоял и не передал информацию о своих немцам. Его ждал расстрел всего за месяц до 18-летия.

2. Этот партизан прибавил себе возраст на один год и отправился в отряд к партизанам. Участвовал в боях, пускал под откос эшелоны с немецкой техникой. В 1943 г. совершил подвиг: в составе группы минеров переправился на правый берег Днепра и установил Красное знамя. Последовали пять суток ожесточенных боёв. За это он получил звание «Герой Советского Союза». Погиб в возрасте 18 лет от пули немецкого снайпера.

3. Он был партизаном, на его счету 27 боевых операций, 78 убитых фашистов. В 1942 г. совершил подвиг, подорвал машину генерал-майора инженерных войск Рихарда фон Виртца. Благодаря этой операции в наших руках оказались чертежи, описание новых немецких мин и инспекционные записи. За этот подвиг получил звание Героя Советского Союза, но посмертно. В 1943 г., прорываясь из окружённого села, погиб в возрасте 16 лет.

4. В девятилетнем возрасте притворился бездомным ребенком, рассказал партизанам важную информацию от немцев. В 1943 г. его схватили вражеские офицеры прямо после операции по минированию моста. Долго пытали, решив, что ребёнок умер, бросили на улице в мороз. Там его нашли местные жители, ослепшего... После войны врачи смогли вернуть ребёнку зрение. Лишь спустя 15 лет он поделился пережитым.

5. В 12 лет сбежал на фронт как сирота. Ночью, во время воздушной атаки, в лесу обнаружил немецкого военного. Помог в задержании, став впоследствии «сыном полка». Занимался разведкой во вражеском тылу. В 1944 г. смог обнаружить секретную железнодорожную ветку, расставил метки для того, чтобы указать цель бомбардировщикам. Пробрался в немецкий эшелон и поджёг боеприпасы. После этого был пойман и распят... Однако нашим разведчикам удалось спасти его. Прошёл всю войну и вернулся в 1945 г. к матери в Москву.

18. Этот полководец, по словам американского исследователя Кайдена, «нанес немцам больше потерь, чем любой другой военачальник или группа их, во Второй мировой войне. В каждой битве он командовал более чем миллионом людей. Он вводил в дело фантастическое количество танков. Немцы были более чем знакомы с именем и сокрушающим мастерством,... ибо перед ними был военный гений». *Напишите его ФИО.*

19. На фотографии - авиационная трасса, проходившая через территорию Иркутской области. Укажите ее название и назначение.



20. Существует скульптурная трилогия памятников, посвященных Победе, в которых символом выступает меч. Назовите эти памятники, места, где они установлены, и что они символизируют.

21. Уроженец села Кимильтей Зиминского района Иркутской области, почетный гражданин г. Киренска, удостоен звания Героя Советского Союза в ноябре 1944 г. В представлении его к званию Героя, в частности, указано: «... 28 июня [1944 г.] провел тремя торпедными катерами атаку конвоя в районе Петсамо. В результате удара в дневных условиях... только торпедными катерами было потоплено: транспорт водоизмещением пять-семь тысяч, транспорт водоизмещением четыре тысячи тонн и один сторожевой катер». Назовите его имя, укажите окончательное военное звание.

22. Подвиг этого легендарного летчика увековечен в памятниках, повести, опере. Именно о таких как этот летчик на Нюрнбергском процессе немецкий генерал Г.Геринг сказал: «Поражение в войне не было ошибкой. Это был рок. Мы не знали русских». Назовите имя этого человека и его подвиг.

23. Первый документальный фильм, посвященный героизму советского народа в Великой Отечественной войне, созданный в 1941-1942 гг., получил первую премию Американской киноакадемии как лучший документальный фильм. Укажите название фильма, его режиссеров и название премии.


24. Эта женщина – Герой Советского Союза, трагически погибла в 1945 г. Ее называют «хранительницей и заступницей авиазавода». Назовите ее имя и объясните, как она была связана с Иркутским авиазаводом.

25. Именем этого генерала названа одна из улиц г. Иркутска, расположенная в предместье Радищево. Назовите его имя и кратко расскажите о его подвиге.

26. Кому посвящен этот памятник? В каком городе установлен этот памятник? Назовите имена его создателей. Что вы можете рассказать о судьбе героя.






27. Подумайте, по какому принципу объединены эти творческие деятели?
Назовите их имена.






28. Как называется изображенный монумент? Где он находится? Когда был открыт и кто является его автором?

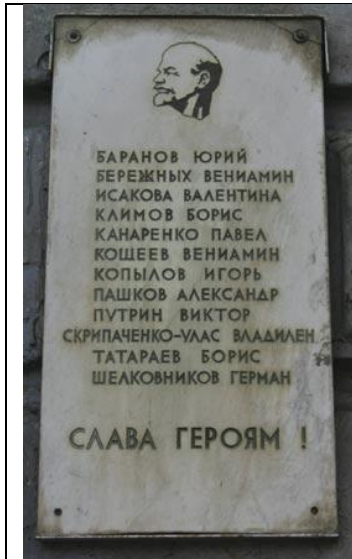


29. Укажите название произведения, автора и время создания

№	Картина	Ответ
1.		Название Автор Год создания
2.		Название Автор Год создания
3.		Название Автор Год создания

4.		<p>Название Автор Год создания</p>
5.		<p>Название Автор Год создания</p>
6.		<p>Название Автор Год создания</p>

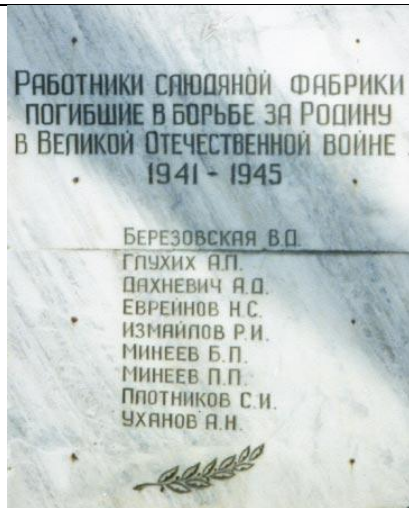
30. Установите соответствие мемориальной доски и места её нахождения в г. Иркутске



1.



2.



3.



4.



5.

Адреса

- А) Ул. Ленина, 5.
- Б) ул. Тимирязева, 14. Двор лицея №3 г. Иркутска.
- В) Ул. Станиславского, 5.
- Г) ул. К. Маркса, 3.
- Д) Ул. Свердлова, 41.
- Е) ул. Рабочая, 21.

Не забудьте внести ответы на бланк!

Список литературы:

1. Великая Отечественная война 1941-1945. Энциклопедия. М.: Изд-во «Советская энциклопедия», 1985.
2. Великая Отечественная война, 1941-1945. События. Люди. Документы. Краткий исторический справочник / Под общ. ред. О.А. Ржешевского. М.: Политиздат, 1990.
3. Великая Отечественная война. 1941-1945. Военно-исторические очерки. Т.1-2. М., 1995-1998.
4. Иркутская летопись 1941-1991 гг. / Составитель Ю.П. Колмаков. Иркутск: Изд-во «Оттиск», 2010.
5. Иркутяне – Герои Советского Союза, Герои России, полные кавалеры ордена Славы : Научно-справочное издание. Иркутск: Изд-во «Оттиск», 2015.
6. Иркутский край. Четыре века. История Иркутской губернии (области) XVII – XXI вв. Иркутск, 2012.
7. Кто был кто в Великой Отечественной войне 1941-1945 гг. Краткий справочник. М.: Изд-во «Республика», 1995.
8. Летопись Иркутской области. 1941-1945 /сост. В.В. Ходий. Иркутск, 2019.
9. СССР в Великой Отечественной войне 1941-1945 гг. (краткая хроника). М., 1964.
10. Патриотизм трудящихся Иркутской области в годы Великой Отечественной войны (1941-1945). Иркутск: Вост.-Сиб. из-во, 1965.